

C1	2年 算数	__年 __組 __番
		まえ 名前

1 つぎの数はいくつですか。

① 10を67こあつめた数
670

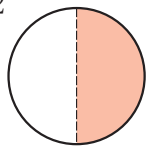
② 100を5こ、10を2こ、1を3こあわせた数
523

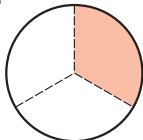
③ 100を10こあつめた数
1000

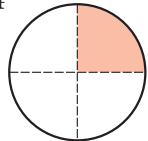
④ 1000を10こあつめた数
10000

⑤ 2000より100小さい数
1900

2 $\frac{1}{2}$ 、 $\frac{1}{3}$ 、 $\frac{1}{4}$ の大きさに色をぬりましょう。(れい)

① $\frac{1}{2}$ 

② $\frac{1}{3}$ 

③ $\frac{1}{4}$ 

3 計算をしましょう。

① $27+16=43$

② $95+31=126$

③ $47+58=105$

④ $92+9=101$

4 計算をしましょう。

① $58-29=29$

② $50-40=10$

③ $179-88=91$

④ $105-66=39$

5 計算をしましょう。

① $2 \times 6=12$ ② $3 \times 5=15$

③ $4 \times 6=24$ ④ $5 \times 7=35$

⑤ $6 \times 6=36$ ⑥ $7 \times 3=21$

⑦ $8 \times 2=16$ ⑧ $9 \times 3=27$

⑨ $9 \times 7=63$ ⑩ $8 \times 6=48$

6 公園に子どもが24人います。とちゅうで、何人かかえたので、15人になりました。

① この場めんを図でかきましょう。

15人	かえた
-----24人-----	

② かえた子どもは何人でしょう。

$24-15=9$ 9人

C2	2年 算数	年 組 番 名前
-----------	--------------	-------------

7 □に当てはまる数を書きましょう。

① 2L = dL

② 3L = mL

③ 4 cm = mm

④ 5 m = cm

⑤ 82mm = cm mm

⑥ 1 m 5 cm = cm

8 □に当てはまる数を書きましょう。

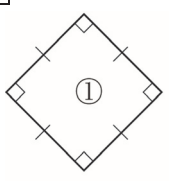
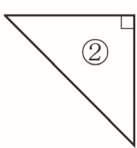
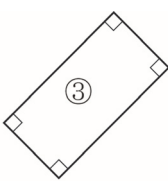
① 3時間 = 分

② 2日 = 時間

③ 1時間40分 = 分

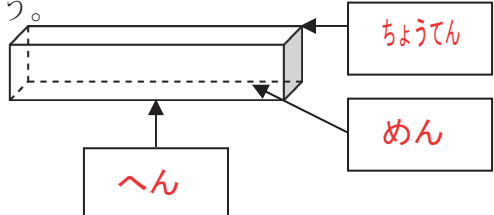
④ 90分 = 時間 分

9 次の図形の名前をかきましょう。

①正方形 ②直角三角形 ③長方形

10 □に当てはまることばをかきましょう。



11 すきなおかしをしらべました。ひょうやグラフにせいりしましょう。

あめ	ケーキ	ケーキ	ケーキ	ガム	ガム
あめ	あめ	ケーキ	ケーキ	ケーキ	ガム
あめ	あめ	あめ	ケーキ	あめ	にくまん
にくまん	ガム	ケーキ	ガム	ケーキ	だんご

①ひょうにせいりしましょう。

しゅるい	ケーキ	あめ	ガム	にくまん	だんご
数(人)	9	7	5	2	1

②下のグラフにせいりしましょう。
すきなおかししらべ

●				
●				
●	●			
●	●			
●	●	●		
●	●	●		
●	●	●		
●	●	●	●	
●	●	●	●	●
ケ ー キ	あ め	ガ ム	に く ま ん	だ ん ご